

SAYILAR VE İŞLEMLER-1

Adı Soyadı:

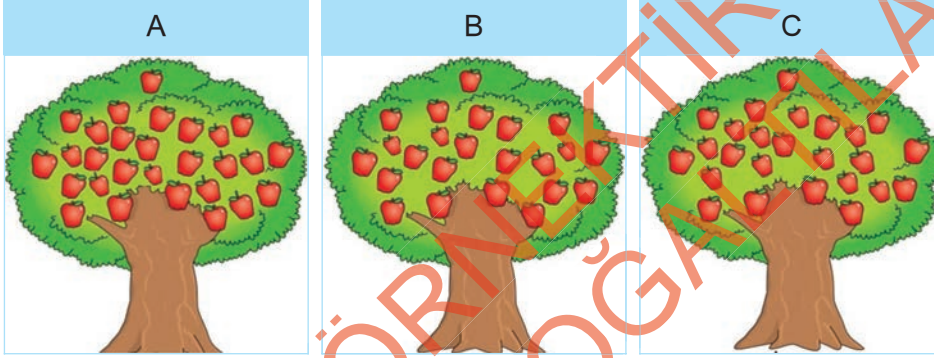
Sınıf / No:

Puan:

Aşağıda verilen ifadelerden doğru olanları D, yanlış olanları Y olarak işaretleyiniz.

1. 4 birlik 5 onluk 45 yapar. (D) (Y)
2. 24 tane boya kalemi 2 düzine eder. (D) (Y)
3. 73 sayısı 7 onluk ve 3 birlikten oluşur. (D) (Y)
4. 3 deste gülün sayısı 2 düzine gülün sayısından azdır. (D) (Y)

Aşağıdaki cümleleri uygun seçeneklerle eşleştiriniz



5. Ağaçta 25 elma vardır.
6. Ağaçta 28 elma vardır.
7. Ağaçta 23 elma vardır.
- 8.




Yukarıdaki semada ifadeler oklar yönünde takip edildiğinde kaç numaralı çıkışa ulaşılır?

A) 1

B) 2

C) 3

9.



Resimdeki portakal ağacında kaç portakal vardır?

- A) 40 B) 20 C) 30


10.




Yukarıdaki görselde kaç tane kırmızı top vardır?

- A) 17 B) 18 C) 20


11. Bir deste kalem ile bir düzine silgi için aşağıdaki ifadelerden hangisi doğrudur?

A)  Kalem silgilerden fazladır.

B)  Silgiler, kalemle den 2 fazladır.

C)  Kalem ve silgilerin toplamı 24 tür.

12.



Yukarıdaki onluk ve birlik gruplara karşılık gelen sayı aşağıdakilerden hangisidir?

- A)  55 B)  50 C)  45



1 D Y

4 D Y

7 A B C

10 A B C

13 A B C

2 D Y

5 A B C

8 A B C

11 A B C

14 A B C

3 D Y

6 A B C

9 A B C

12 A B C

15 A B C

