

GEZEĞENİMİZİ TANIYALIM-1

Adı Soyadı:

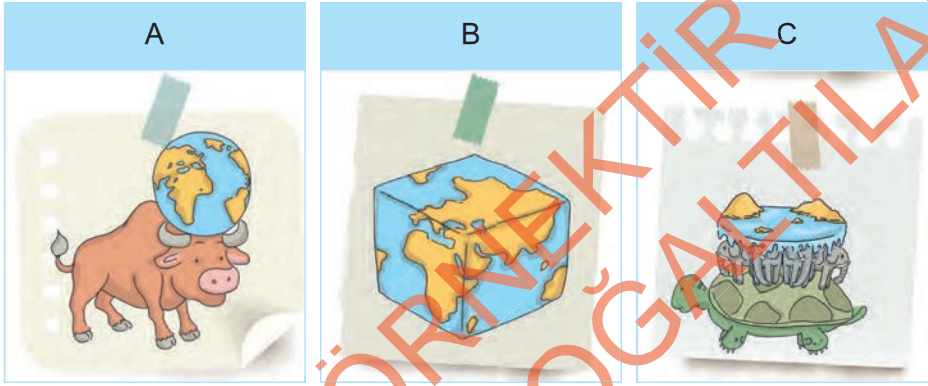
Sınıf / No:

Puan:

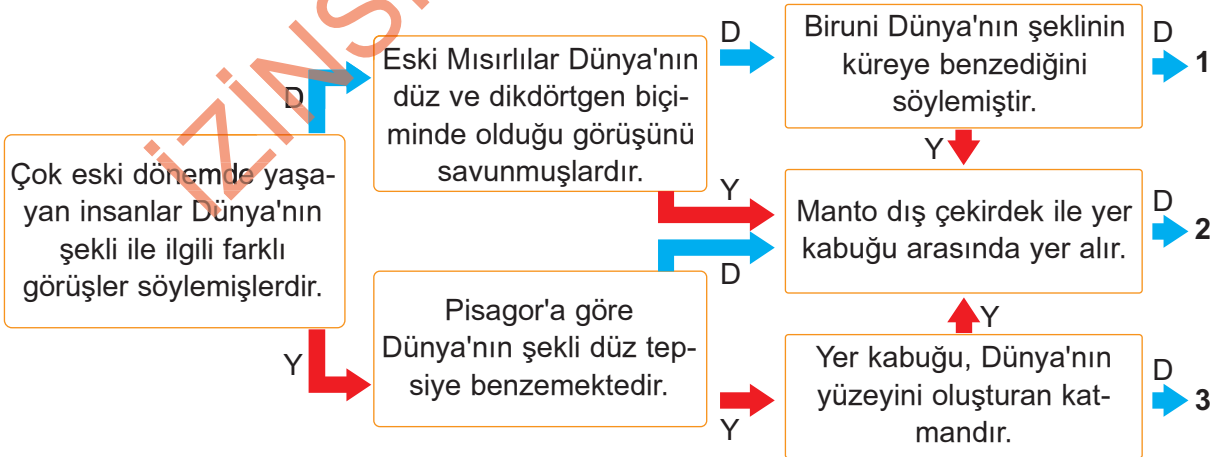
Aşağıda verilen ifadelerden doğru olanları D, yanlış olanları Y olarak işaretleyiniz.

1. Dünya'nın en sıcak katmanı mantodur. (D) (Y)
2. Yer kabuğu, canlıların üzerinde yaşadığı katmandır. (D) (Y)
3. Manto katmanında erimiş kayaların oluşturduğu magma bulunur. (D) (Y)
4. Mayalar, Dünya'yı gölde yüzen dev bir timsah olarak düşünmüşlerdir. (D) (Y)

Aşağıdaki görselleri uygun cümlelerle eşleştiriniz.



5. Dünya küp şeklindedir.
6. Dünya bir öküzün boynuzları arasındadır.
7. Dünya kaplumbağanın sırtında dört fil tarafından taşınmaktadır.
- 8.



Yukarıdaki şemada ifadeler oklar yönünde takip edildiğinde kaç numaralı çıkışa ulaşılır?

A) 1

B) 2

C) 3

9.




Aynı yön ve yükseklikte uçan bir uçak belli bir süre sonra başlangıç noktasına geri dönebilir.

Yukarıdaki bilgi aşağıdakilerin hangisini ispatlar?

- A) Dünya'nın yuvarlak olduğunu
- B) Dünya'nın düz olduğunu
- C) Dünya'nın katmanlardan oluştuğunu

10. Milattan önce 4. yüzyılda Aristo, gözlemleri sonunda Dünya'nın yuvarlak olduğunu kanıtladı.



Aristo'nun gözlemlerinde aşağıda verilenlerden hangisini kullandığını söyleyebiliriz?

- A) Aynı yönde giden uçağın başladığı yere gelmesi
- B) Uzaydan çekilmiş fotoğraflar
- C) Uzaklaşan teknenin en son yelken direğinin gözden kaybolması

11.



Dünya'mızın katmanları ile ilgili aşağıdakilerden hangisi yanlıştır?

- A) İç çekirdek gezegenimizin en sıcak bölümüdür.
- B) Yer kabuğu, üzerinde yaşadığımız deniz tabanları dahil tüm gezegeni kaplar.
- C) Dünya'mızın merkezinde manto bulunur.

12. Dünya'mızın dış kısmını oluşturan yer kabuğu kara ve su katmanlarından oluşur. Kara ve su katmanları iç içedir.

Yer kabuğunun en ince en kalın olduğu yerler sırasıyla aşağıdakilerden hangisidir?

- A) Okyanus dipleri - Dağ tepeleri
- B) Manto - Hava katmanı
- C) Yeraltı su kaynakları - Buzullar

PESAK - PERFORMANS SÜREÇ ANALİZİ



1 D Y
2 D Y
3 D Y

4 D Y
5 A B C
6 A B C

7 A B C
8 A B C
9 A B C

10 A B C
11 A B C
12 A B C

13 A B C
14 A B C
15 A B C

