

OKULUMUZDA HAYAT-1

Adı Soyadı:

Sınıf / No:

Puan:

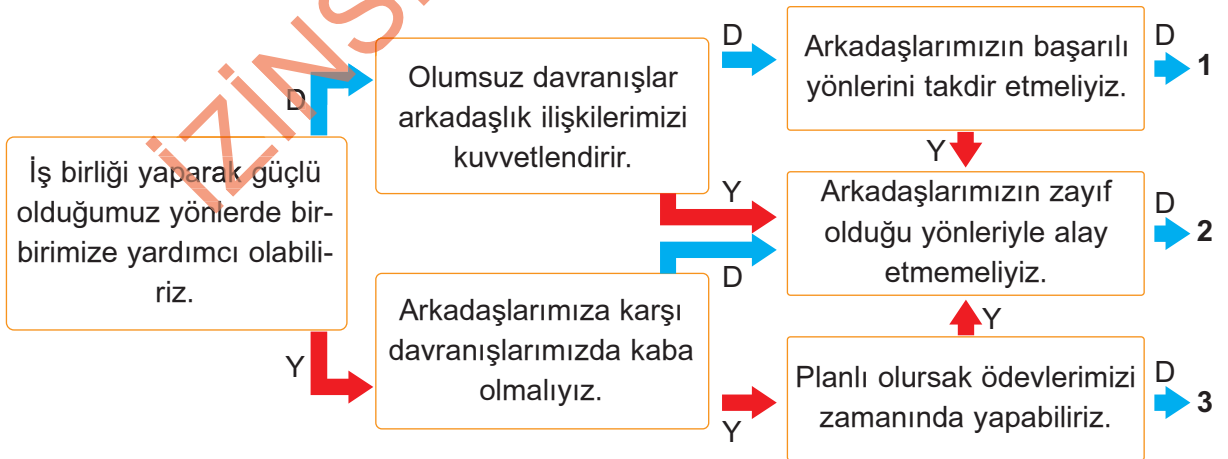
Aşağıda verilen ifadelerden doğru olanları D, yanlış olanları Y olarak işaretleyiniz.

1. Herkesin güçlü ve başarılı olduğu yönler aynıdır. (D) (Y)
2. Sevgi ve saygı arkadaşlık ilişkilerini güçlendirir. (D) (Y)
3. Kişinin en iyi yaptığı iş onun en başarısız olduğu yönüdür. (D) (Y)
4. Çeşitli aktivite ve çalışmalarla zayıf yönlerimizi geliştirebiliriz. (D) (Y)

Aşağıda boş bırakılan yerleri uygun ifadelerle tamamlayınız.

A	B	C
çalışarak	dikkat	hoşgörülü

5. Arkadaşlarımıza karşı ----- olmalıyız.
6. Arkadaşlarımıza karşı olan davranışlarımıza ----- etmeliyiz.
7. Başarılı olmadığımız yönlerimizi daha fazla ----- geliştirebiliriz.
- 8.



Yukarıdaki şemada ifadeler oklar yönünde takip edildiğinde kaç numaralı çıkışa ulaşılır?

A) 1

B) 2

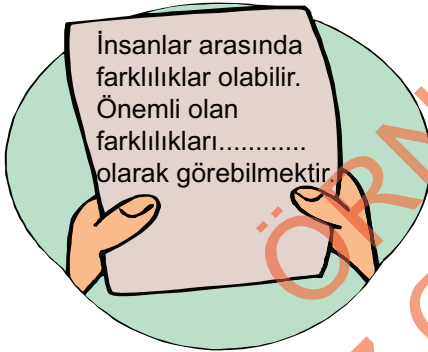
C) 3

9. **Ayla:** Müzik dinlemekten hoşlanırım. Arkadaşlarım güzel resim yaptığımı söyler. Fakat koşu yarışlarında iyi değilimdir.

Ayla için aşağıdakilerden hangisi söylebilir?

- A) Güçlü ve zayıf yönlerinin farkındadır.
B) Koşu yarışlarında başarılıdır.
C) Çok iyi gitar çalar.

10.



Yukarıdaki cümlede boş bırakılan yere aşağıdakilerden hangisi getirilmelidir?


- A) zenginlik
B) üstünlük
C) eksiklik

11. Betül arkadaşları tarafından dürüstlüğü ile tanınmaktadır. Herkes onu oyununa alır; o da diğer arkadaşlarına karşı anlayışlıdır.

Buna göre Betül için aşağıdakilerden hangisi söylenebilir?

- A) Arkadaşlarının güvenini kazandığı
B) Grup içinde uyumsuz olduğu
C) Çevresindekilerce sevilmediği

12.



Aşağıdaki davranışlardan hangisi, arkadaşlarımızın oyunlarına katılmamıza engel olabilir?

- A) Saygılı olmak
B) Mızıkçılık yapmak
C) Oyun kurallarına uymak

PESA - PERFORMANS SÜREÇ ANALİZİ



1 D Y
2 D Y
3 D Y

4 D Y
5 A B C
6 A B C

7 A B C
8 A B C
9 A B C

10 A B C
11 A B C
12 A B C

13 A B C
14 A B C
15 A B C

